


世界には、
いくつのが大陸が
ある？




67



日本は、
なに大陸の東
にある？



ユーラシア 大陸



日本は、
なに半球に
ある？




北半球



3つの主な海洋
は、太平洋、イン
ド洋と？




大西洋



3つの主な海洋
で、日本のまわり
にあるのは？




太平洋



地球の南北の
位置を示すのは、
緯度と経度、
どちら？



緯 度



地球の東西の位置を示す、南極と北極を結んだたての線は？




経線



年じゅう暑い地域
で、北極と南極の
中間を通る
線は？



赤道



日本の西にある
国は、大韓民国と
朝鮮民主主義人
民共和国と？




中華人民
共和国



北海道に近く、
日本が水産物や
天然資源を輸入
している国は？



ロシア連邦



国のもつ陸地と、
陸地に囲まれた
川や湖などのこと
は？




領 土



日本をかこむ海は
オホーツク海,
太平洋,
東シナ海と?




日本海



鹿児島県をかこ
む海は、太平洋
と?



東シナ海



日本の北のはし
の島は、北海道
の？



択捉島



日本の東のはし
の島は、東京都
の？




南鳥島



日本の南のはし
の島は、東京都
の？




沖ノ鳥島



日本の西のはし
の島は、沖縄県
の？




与那国島



歯舞群島, 色丹
島, 国後島, 択捉
島をあわせて?



北方領土



日本の国土の大き
きな4つの島は、
北海道、四国、
九州と？



本 州

