



日本の地形の
特徴は、大きな平
野が少ないこと
と？




山が多いこと



日本の人口が
集中している地形
は？



平野



飛騨山脈，木曾
山脈，赤石山脈を
あわせて，なんと
言う？




日本アルプス



入江やみさきが
続き、海岸の出
入りがはげしい
地形は？




リアス式海岸



日本の川の特徴
は、長さが短い
ことと、流れが？




急
心



日本の気候の特
徴は、季節にな
にがある？




四季



日本の南と北，
太平洋側と日本
海側で大きく異な
るものは？




気 候



季節によってふく
向きが変化する
風は？




季節風



雪が多く降るのは、
太平洋側か？
日本海側か？




日本海側



太平洋側の気候
は季節風のため、
夏は何が多い？



雨



種子島・屋久島は、
南西諸島の気候
か？太平洋側の
気候か？



太平洋側の 気候



日本の気候で6月
から7月にかけて
北海道以外であ
るものは？



梅 雨

